

CHỦ ĐỀ

14


ÔN TẬP CUỐI  
NĂM



BÀI 69

ÔN TẬP PHÉP CỘNG, PHÉP  
TRỪ

TRONG PHẠM VI 100



LUYỆ  
N TẬP





# 1 Tính nhẩm

$30 + 40 = 70$   
 $70 - 30 = 40$   
 $70 - 40 = 30$

$40 + 60 = 100$   
 $100 - 40 = 60$   
 $100 - 60 = 40$

$50 + 40 = 90$   
 $70 + 30 = 100$   
 $100 - 50 = 50$

## 2 Đặt tính rồi tính.

a)  $57 + 28$

$$\begin{array}{r} 57 \\ + 28 \\ \hline 85 \end{array}$$

$24 + 67$

$$\begin{array}{r} 24 \\ + 67 \\ \hline 91 \end{array}$$

$49 + 39$

$$\begin{array}{r} 49 \\ + 39 \\ \hline 88 \end{array}$$

b)  $83 - 19$

$$\begin{array}{r} 83 \\ - 19 \\ \hline 64 \end{array}$$

$42 - 38$

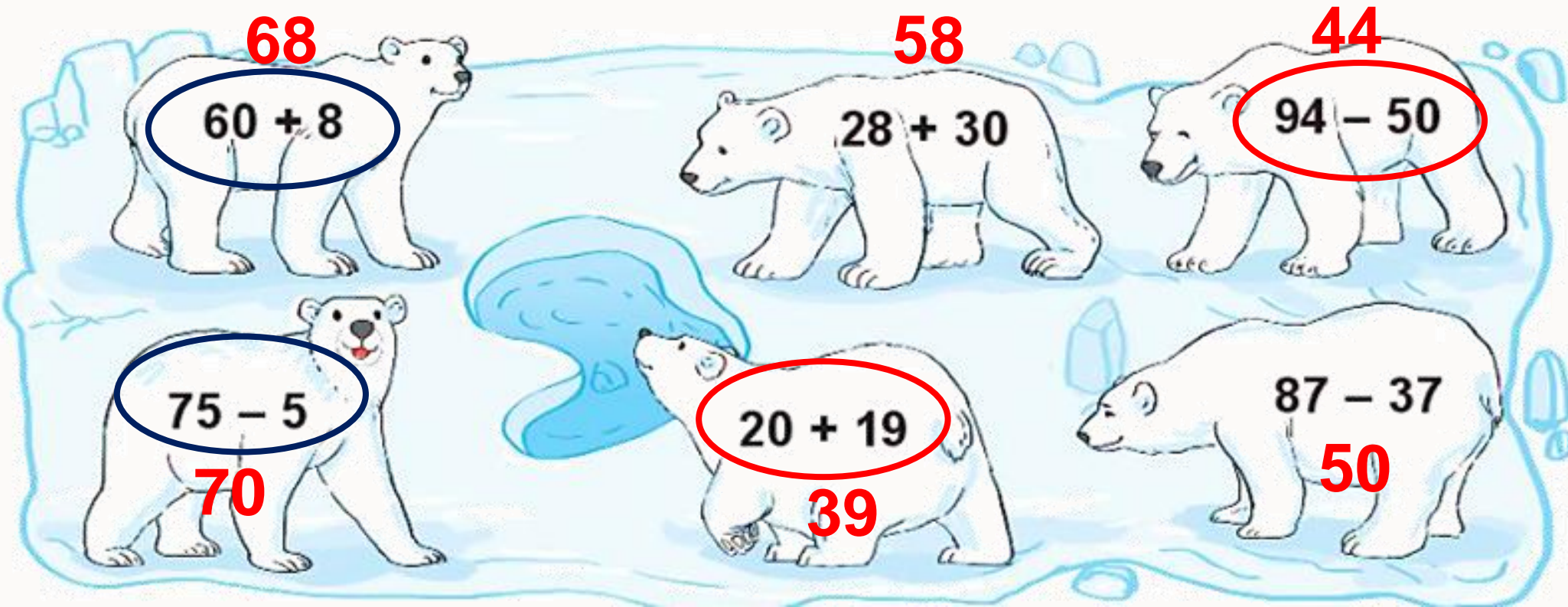
$$\begin{array}{r} 42 \\ - 38 \\ \hline 4 \end{array}$$

$90 - 76$

$$\begin{array}{r} 90 \\ - 76 \\ \hline 14 \end{array}$$

3

Trong các phép tính dưới đây, những phép tính nào có kết quả bé hơn 45, những phép tính nào có kết quả lớn hơn 63?



- Quãng đường Hà Nội – Nam Định dài 90 km. Quãng đường Hà Nội – Hòa Bình dài 76 km. Hỏi quãng đường Hà Nội – Nam Định dài hơn quãng đường Hà Nội – Hòa Bình bao nhiêu ki-lô-mét?

*Bài giải*

Quãng đường Hà Nội – Nam Định dài hơn quãng đường


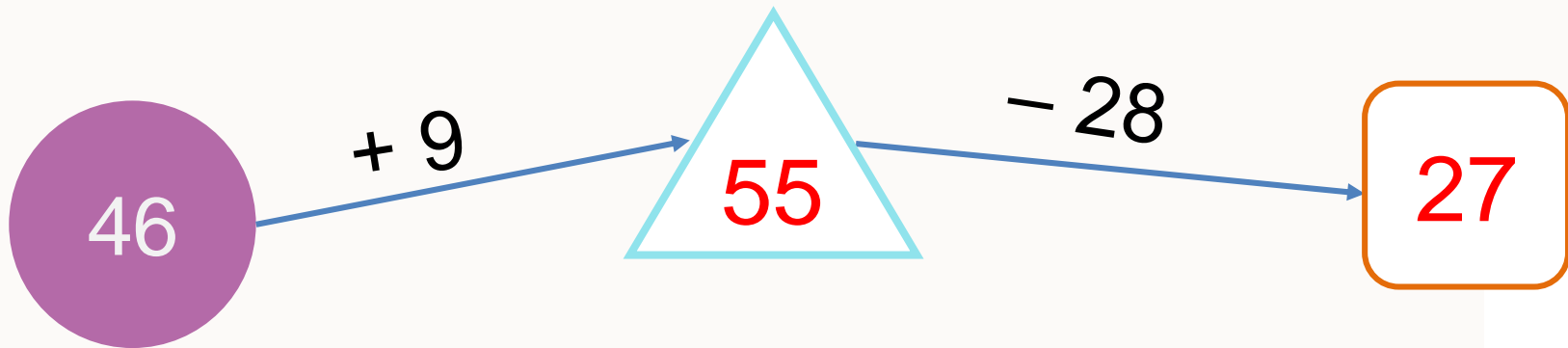
Hà Nội – Hòa Bình số ki-lô-mét là:

$$90 - 76 = 14 \text{ (km)}$$

Đáp số: 14 km



5 Số ?



LUYỆ  
N TẬP



1

Đ, S ?

a)

$$\begin{array}{r} 56 \\ + 7 \\ \hline 63 \end{array}$$

Đ

b)

$$\begin{array}{r} 75 \\ - 6 \\ \hline 15 \end{array}$$

S

c)

$$\begin{array}{r} 47 \\ + 35 \\ \hline 72 \end{array}$$

S

d)

$$\begin{array}{r} 63 \\ - 28 \\ \hline 35 \end{array}$$

Đ

## 2 Đặt tính rồi tính.

a)  $28 + 55$

$$\begin{array}{r} 28 \\ + 55 \\ \hline 63 \end{array}$$

$45 + 49$

$$\begin{array}{r} 45 \\ + 49 \\ \hline 94 \end{array}$$

$37 + 53$

$$\begin{array}{r} 37 \\ + 53 \\ \hline 90 \end{array}$$

b)  $61 - 18$

$$\begin{array}{r} 61 \\ - 18 \\ \hline 43 \end{array}$$

$53 - 26$

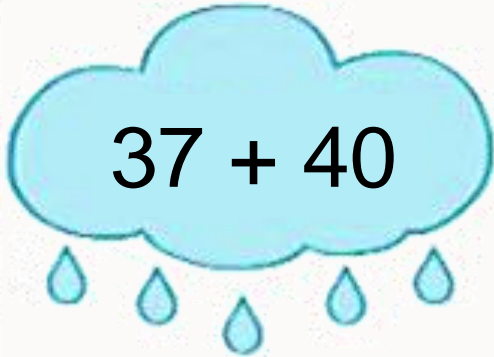
$$\begin{array}{r} 53 \\ - 26 \\ \hline 27 \end{array}$$

$92 - 84$


$$\begin{array}{r} 92 \\ - 84 \\ \hline 8 \end{array}$$

3 Trong các phép tính dưới đây, phép tính nào có kết quả bé nhất, phép tính nào có kết quả lớn nhất?

77




70




Bé nhất

75



80



Lớn nhất

4

Trong ngày sinh nhật ông:

- Nam hỏi: “Ông ơi, năm nay ông bao nhiêu tuổi ạ?”

- Ông nói: “Cháu tính nhé! Năm nay, bà 58 tuổi, ông hơn bà 5 tuổi.”

Em hãy cùng Nam tính tuổi của ông.

### *Bài giải*

*Tuổi của ông là:*

$$58 + 5 = 63 \text{ (tuổi)}$$

*Đáp số: 63 tuổi*

**→ Vậy ông 63 tuổi.**



5 Tính.

$$\text{a) } 54 + 29 - 8$$

$$= 83 - 8$$

$$= 75$$

$$\text{b) } 62 - 38 + 7$$

$$= 24 + 7$$

$$= 31$$



LUYỆ  
N TẬP



1 Chọn câu trả lời đúng.

a) Tổng của 64 và 26 là:

A. 90      B. 80      C. 38

b) Hiệu của 71 và 18 là:

A. 63      B. 53      C. 89

c) Kết quả tính  $34 + 9 - 27$  là:

A. 43      B. 26      C. 16

d) Kết quả tính  $53 - 5 + 45$  là:

A. 48      B. 83      C. 93

2 Tìm chữ số thích hợp.

a) 
$$\begin{array}{r} 27 \\ + 46 \\ \hline \boxed{7} \boxed{3} \end{array}$$

b) 
$$\begin{array}{r} 3 \boxed{9} \\ + \boxed{4} 6 \\ \hline 75 \end{array}$$

c) 
$$\begin{array}{r} 81 \\ - 2 \boxed{5} \\ \hline \boxed{5} 6 \end{array}$$

3 <, >, = ?

a) 
$$\begin{array}{l} 85 - 68 \boxed{<} 20 \\ \quad \quad \quad 17 \\ 49 + 33 \boxed{<} 91 \\ \quad \quad \quad 82 \end{array}$$

b) 
$$\begin{array}{l} 54 + 37 \boxed{=} 37 + 54 \\ \quad \quad \quad 91 \quad \quad \quad 91 \\ 72 - 27 \boxed{>} 72 - 30 \\ \quad \quad \quad 45 \quad \quad \quad 42 \end{array}$$

4

Con bò sữa của bác An mỗi ngày cho 20 l sữa. Con bò sữa của bác Bình mỗi ngày cho ít hơn con bò sữa của bác An 5 l sữa. Hỏi mỗi ngày con bò sữa của bác Bình cho bao nhiêu lít sữa?


*Bài giải*

*Mỗi ngày con bò sữa của bác*

*Bình cho số lít sữa là:*

$$20 - 5 = 15 \text{ (l)}$$

*Đáp số: 15 lít sữa*



5 SÓ ?

